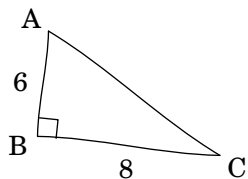


Nom :

Date :

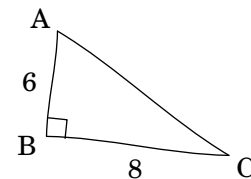
Déterminer la longueur AC .



Nom :

Date :

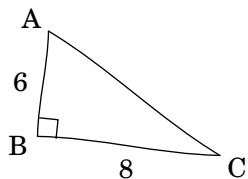
Déterminer la longueur AC .



Nom :

Date :

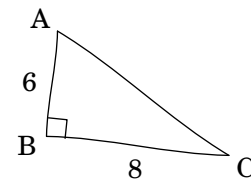
Déterminer la longueur AC .



Nom :

Date :

Déterminer la longueur AC .



Nom :

Date :

Développer l'expression suivante :

$$D = (2x + 3)(-x + 4)$$



Nom :

Date :

Développer l'expression suivante :

$$D = (x + 4)(-2x + 3)$$



Nom :

Date :

Développer l'expression suivante :

$$D = (3x - 1)(2x + 4)$$



Nom :

Date :

Développer l'expression suivante :

$$D = (-x + 2)(4x + 3)$$

